

2026年度
頌栄女子学院中学校
入学試験問題(第2回)

社 会

- 《注 意》
1. 合図^{あいず}があるまでこれを開いてはいけません。
 2. 問題は裏・表^{うら、おもて}の印刷で、1～12ページまであります。
 3. 問題用紙の表紙には受験番号を記入しなさい。
 4. 解答用紙には受験番号と氏名^{しん せう}を記入しなさい。
 5. 解答はすべて解答用紙の所定の欄^{らん}の枠内^{わく}に記入しなさい。
 6. デジタル採点をしますので、解答は濃くはつきりと書きなさい。
 7. 漢字で書くべきものは漢字で答えなさい。

《配 点》 100点

《試験時間》 40分

受 験 番 号	
------------------	--

[1]次の文章を読んで、あとの問いに答えなさい。

日本は、世界的にみても自然災害の発生件数が多いことでも知られています。災害が発生するたび多数の被害が出る一方で、再び同じような被害が出ないよう、後の世代に向けて災害を伝承してきました。災害伝承の手段は、文字による伝承や、①災害の被害を受けた建物や地形などを保存する災害遺構、さらには民話や祭りなど様々な手段があげられます。

文字による伝承の例として、様々な古文書などによる伝承があげられます。②日本書紀には684年に発生した白鳳地震に関する「③伊予の④温泉が出なくなり、土佐の田地50余万頃(約12km²)が海水に没した。」という記録が残っています。この地震は、駿河湾から日向灘沖にかけてのプレート境界である(1)を震源域とする地震であったとされ、現在も同じような震源域での発生が懸念されています。(2)による随筆『方丈記』にも、⑤京都に大きな被害をもたらした文治地震に関する記述が残されています。また、2019年に新たな地図記号として制定された、⑥自然災害伝承碑も、その一例ということができるでしょう。

災害伝承はかねてより行われてきましたが、2011年に発生した東日本大震災以降、改めて注目されるようになりました。2024年には、内閣府及び国土交通省により地域で発生した災害の状況を分かりやすく伝える施設や、災害の教訓を伝承する活動などを「NIPPON 防災資産」として認定する制度が創設されました。同年5月には、全国140件の候補から22件が認定され、そのうち11件は特に優れた「優良認定」に選ばれました。

⑦和歌山県広川町にある「稲むらの火の館」は、優良認定された災害伝承施設の1つです。『稲むらの火』とは、1854年に発生した(1)を震源域とする巨大地震と、それにともない発生した津波が村を襲来した時、濱口梧陵という人物が高台の稲むらに火をつけて夕闇の中で逃げ遅れた村民を誘導したという昔話です。この話は、Aが濱口梧陵を主人公にした物語『A Living God(生神様)』をつくり、その後、当時の小学校の国語読本に採用され、広く知られるようになりました。「稲むらの火の館」は、津波の恐ろしさを伝えるだけではなく、津波から身を守る知恵などをわかりやすく展示している点が評価され、優良認定されました。そのほか、⑧群馬県嬭恋村で続く、⑨1783年に発生した浅間山の噴火を語り継ぐ「嬭恋村・天明三年浅間山噴火災害語り継ぎ活動」や、祭りによって災害を語り継ぐ⑩新潟県の「えちごせきかわ 大したもん蛇まつり」などが優良認定に選ばれています。

災害伝承が東日本大震災をきっかけに注目されたように、災害が起こるたびに被害を少なくしたり、復興を早めたりするため、様々な制度が整備されていきました。例えば、1959年に発生した⑪伊勢湾台風をきっかけに、災害対策基本法が制定され、災害が発生したときの⑫国や都道府県、市町村など各行政主体の役割が決められていきました。また、阪神・淡路大震災が発生した(3)年は、多くの一般市民が被災地支援のために駆けつけたことから、(4)元年とも呼ばれており、今では当たり前に行われている災害時の(4)活動を受け入れる仕組みなどが整備されていきました。

日本は様々な災害が発生する一方、災害の被害を減らすための取り組みも行ってきました。ただ、いくら国や地方自治体が工夫をしても、私たち一人一人の意識が変わらなければ被害を減らすことはできません。各自が自治体などが公開している地図である(5カタカナ)を活用して、家の周りの自然災害リスクや災害時の避難場所などを知り、家族で話し合っておくなどの取り組みをすることが、より被害を減らすことにつながるでしょう。

問1. 文章中の空らん(1)～(5)に当てはまる最も適切な言葉を答えなさい。

問2. 文章中の空らん **A** には、「耳なし芳一」「雪女」といった日本に古くから伝わる説話をまとめたことで知られ、2025年9月から始まったNHK連続テレビ小説「ばけばけ」の主人公の夫のモデルとなった人物の名前が入ります。この人物を次のア～エから1つ選び、記号で答えなさい。

ア. 芥川龍之介 イ. 森鷗外 ウ. 夏目漱石 エ. 小泉八雲

問3. 下線部①について、以下の写真1・2は、ある災害遺構を写したものです。写真1・2から読み取れることについて述べた以下の文章Ⅰ・Ⅱ中の下線部の正誤の組み合わせとして、正しいものを次のア～エから1つ選び、記号で答えなさい。

著作権の関係で掲載できません
(熊本地震で発生した断層の写真)

写真 1

熊本地震震災ミュージアム 記憶の遺跡 HP(<https://kumamotojishin-museum.com/remains/detail/27>)より



写真 2

洞爺湖町 HP より

Ⅰ: 写真1からは、2016年に発生した熊本地震で生じた断層が耕地を横切っていることがわかる。
Ⅱ: 写真2からは、有珠山の火山活動により地殻変動が起こり、建物が波打っていることが読み取れる。

ア. Ⅰ一正 Ⅱ一正 イ. Ⅰ一正 Ⅱ一誤 ウ. Ⅰ一誤 Ⅱ一正 エ. Ⅰ一誤 Ⅱ一誤

問4. 下線部②に関連して、天平文化のものを次のア～エから1つ選び、記号で答えなさい。

ア. 玉虫厨子 イ. 唐招提寺鑑真像 ウ. 広隆寺弥勒菩薩像 エ. 東大寺南大門

問5. 下線部③について、伊予出身の軍人に日露戦争で活躍した秋山好古^{よしふる}がいます。日露戦争の説明として正しいものを次のア～ウから1つ選び、記号で答えなさい。

- ア. 中国で発生した義和団事件が日露両国の緊張^{きんちやう}を高める原因になった。
- イ. ロシアに対する警戒感^{けいがい}からイギリス・アメリカが日本と同盟を結んだ。
- ウ. 戦争後に締結されたポーツマス条約で日本は賠償金^{ばいしょうきん}を獲得した。

問6. 下線部④について、温泉に関連する伝承をもつ次の(1)～(3)の人物の名前を答えなさい。

- (1) 唐に渡って修行し、帰国後、高野山に金剛峯寺を建て、真言宗を広めた。
- (2) 上杉謙信と五度^{ごど}にわたって川中島で対決したことで知られる甲斐の大名。
- (3) 征夷大將軍として朝廷から派遣され、蝦夷の長のアテルイを降伏させた。

問7. 下線部⑤を戦場とした戦いとして誤^{あやま}っているものを次のア～ウから1つ選び、記号で答えなさい。

- ア. 管領家・將軍家の跡継ぎ争いおよび守護大名の細川氏、山名氏の対立から生じた戦乱。
- イ. 旧幕府軍と新政府の間で戦われた戊辰戦争のうち、その始まりとなった戦い。
- ウ. 源義経の軍が険しい山の背後から駆け下りて、平氏の軍勢を破った戦い。

問8. 下線部⑥について、以下の資料は、東京都青梅市^{しんまちみたまはら}の新町御嶽神社にある自然災害伝承碑が伝承する内容を示したものです。この資料から読み取れることとして誤^{あやま}っているものを次のア～エから1つ選び、記号で答えなさい。

資料

昭和2年(1927)5月15日、雷雨の中、直径1.5～2cmの雹^{ひょう}が約30分に亘り激しく降り続いた。屋根から転がり落ちて軒下に積もった雹^{ひょう}は、45～60cmにも及び、桑や茶、小麦などの農作物はほぼ全滅するほどであった。雹による被害は、河辺駅より東の新町、小作駅の間が甚大であった。この碑は、平成元年(1989)に現在の場所に移設された。

地理院地図より引用

- ア. 雹^{ひょう}が約30分にわたり降り続き、深さ45～60cmになるまで積もったとされている。
- イ. 自然災害伝承碑はもとあった場所から別の場所に移設されることがある。
- ウ. 桑の栽培が見られたことから、かつてこの地域では養蚕が行われていたと推測できる。
- エ. この伝承碑が伝承する災害は、冬季にのみ発生する現象である。

問9. 下線部⑦出身の陸奥宗光は条約改正で成果を上げました。条約改正に関する次のア～エを年代の古いものから順に並べかえなさい。

- ア. 井上馨の欧化政策の一環として鹿鳴館が建設された。
- イ. イギリスとの交渉によって領事裁判権が廃止された。
- ウ. ノルマントン号^{ちんぼつ}が沈没し、日本人乗客が全員死亡した。
- エ. 小村寿太郎の交渉によって関税自主権を回復した。

問10. 下線部⑧について、以下の統計は、生産量の上に群馬県が入るキャベツ、レタス、ほうれんそう、きゅうりの生産上位5都道府県の生産量とその割合(2023年度)を示したものです。表中のa～cに当てはまる都道府県を次のア～カからそれぞれ1つ選び、記号で答えなさい。

キャベツ			
		収穫量(t)	%
1	群馬県	282,900	19.7
2	愛知県	272,700	19.0
3	a	116,000	8.1
4	b	101,600	7.1
5	鹿児島県	72,900	5.1
全国		1,434,000	100.0

レタス			
		収穫量(t)	%
1	長野県	181,500	33.2
2	b	84,000	15.4
3	群馬県	58,200	10.7
4	長崎県	35,200	6.4
5	静岡県	24,700	4.5
全国		546,100	100.0

ほうれんそう			
		収穫量(t)	%
1	群馬県	22,400	10.8
2	埼玉県	20,500	9.9
3	a	20,100	9.7
4	b	18,900	9.1
5	c	14,400	7.0
全国		206,800	100.0

きゅうり			
		収穫量(t)	%
1	c	61,700	11.7
2	群馬県	53,900	10.2
3	埼玉県	43,300	8.2
4	福島県	39,200	7.4
5	a	30,900	5.8
全国		529,200	100.0

データでみる県勢2025より作成

ア. 高知県 イ. 宮崎県 ウ. 千葉県 エ. 兵庫県 オ. 北海道 カ. 茨城県

問11. 下線部⑨に関連して、浅間山の噴火などの影響で天明の飢饉がおきると、松平定信が改革を開始しました。彼の改革のうち、大名に行わせた将来の飢饉への備えを簡潔に説明しなさい。

問12. 下線部⑩について、次の会話文は「えちごせきかわ 大したもん蛇まつり」に関する頌子さんと栄子さんの会話です。この会話文を読んで以下の問いに答えなさい。

頌子さん 「この地形図(6ページ)は、新潟県関川村の中心地域を示した X 縮尺の地形図です。関川村は、新潟県の北東部に位置し、山形県との県境に位置する村です。」

栄子さん 「 I 」

頌子さん 「そうですね。関川村では、『えちごせきかわ 大したもん蛇まつり』というお祭りが行われています。このお祭りは、次ページの写真のように、巨大なわらで編んだ蛇をもって村を練り歩くお祭りで、1967年に発生したある災害を伝承するために行われているお祭りです。」

栄子さん 「この村では、どのような災害が発生したのですか？」

頌子さん 「1967年8月28日明け方から29日の午前中にかけての約 30 時間で、関川村の最も多いところの降雨量が700mmを越えました。その豪雨のせいで II が発生したようです。」

栄子さん 「なぜ、湯沢地区ではこのような被害が出てしまったのでしょうか？」

頌子さん 「湯沢地区を流れる湯蔵川の流域は、**Y** 3字岩によって構成されており、それが一因とも言われています。」

栄子さん 「**Y** 岩は御影石とも呼ばれる深成岩の一種で、墓石に使われるなど非常に硬い岩石だと思うのですが、なぜこのような被害につながったのでしょうか？」

頌子さん 「**Y** 岩は風化するとろくなりやすいという特徴があるからです。**Y** 岩が風化して形成される土壌を真砂土と呼び、全国的にも真砂土の分布している地域では同様の災害が発生しやすくなっています。」

栄子さん 「そういう理由があったのですね。でも、なぜわらで編んだ大きな蛇を担いで村を練り歩くことが災害の伝承になるのでしょうか？」

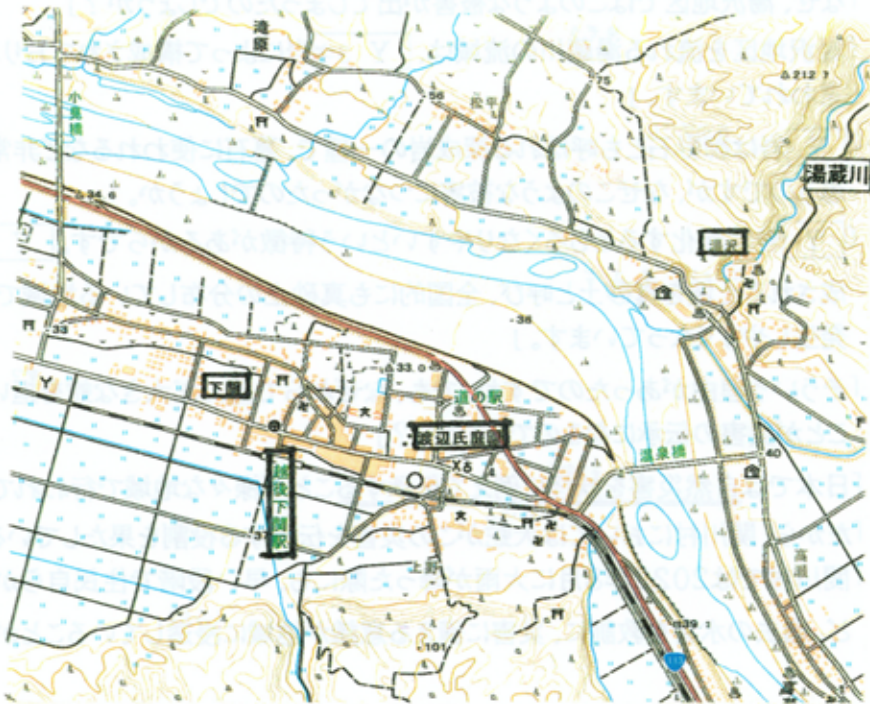
頌子さん 「日本では自然災害を妖怪に例えて伝承することが様々な地域で行われてきました。」

栄子さん 「だから、関川村においては大蛇がこの災害を伝承する役割を果たしているのですね。」

頌子さん 「関川村では2022年8月に大雨が降った際にも、早い段階で住民自らが避難を始めるなど、過去の水害を教訓に、災害に備える意識が地域に浸透していることがわかりますね。」



写真提供:公益社団法人 新潟県観光協会



地形図

国土地理院発行地形図「越後下関」作問の都合上、一部改変

- (1) 文章中の空らん ・ に当てはまる最も適切な言葉を答えなさい。
- (2) 文章中の空らん に当てはまる最も適切な文章を次のア～エから1つ選び、記号で答えなさい。
- ア. 地形図の中央を流れる大きな河川は西から東に向かって流れていますね。
 - イ. 越後下関駅の北側に村役場が位置していますね。
 - ウ. 地形図中には湯沢地区のみに温泉がみられますね。
 - エ. 渡辺氏庭園の近くには交番がみられますね。
- (3) 関川村で1967年に発生した災害では、下関地区と湯沢地区では異なる被害が出たといわれています。その被害とはどのようなものだったか、会話文と地形図を参考にし、それぞれの地域の自然的特性に触れながら、会話文中の空らん に当てはまる形で説明しなさい。

(4) 会話文中の二重下線部について、日本では関川村の大蛇など様々な妖怪による災害伝承が各地で見られます。風土論などについて研究するある研究者は、日本全国で見られる、妖怪による災害伝承の構造を、以下の5つに分類しました。

- (a) 自然災害が妖怪の動きによって発生する伝承
- (b) 妖怪の挙動が自然災害の発生を知らせる伝承
- (c) 妖怪の行動によって自然災害の様子を表現する伝承
- (d) 妖怪によって自然災害から人間が救助される伝承
- (e) 過去の自然災害の様子を妖怪が登場する物語に込めた伝承

(高田知紀(2024)『神と妖怪の防災学—「みえないリスク」へのそなえ—』より作成)

例えば、以下の沖縄県八重山諸島に伝わる伝承は、上記の分類では(b)と(e)に分類される伝承の例ということができます。

沖縄県八重山諸島に伝わる話

明和の津波がある前日にトウ里という集落で漁師が珍しい魚を釣ってきた。集落の人みんな集まった。こういう魚を見たことがない、人間にも似ている、おいしいに違いないから食べてみようと言った。するとその魚がポロポロ涙を流して、助けて下さいと言った。助けて貰ったらこの恩をお返しするという。みんなは、これは普通の魚と変わっているから、食べるのはやめて海に放すことにした。放す間際になって、その魚が明日大きな津波が来るから山に上がって難を逃れて下さいと言った。集落の人は、初めは信じなかったが、これは神のお告げかも知れないと山に上がった。山に上がると同時に大きな津波が来て明和の大津波になった。

出典: 沖縄県立博物館・美術館 WEB アーカイブ ウチナー民話の部屋 一部表現を改めた

このような妖怪を用いた災害伝承は、小さい子どもたちにも効果的に災害の恐ろしさを伝える手段として、近年注目を集めています。上記を踏まえ、あなたが新しい妖怪を作りだし、災害の恐ろしさを伝えるとしたら、どのような妖怪を作り出しますか。以下の条件を守りつつ、作り出した妖怪の紹介文を解答らんにあう形で記入しなさい。

【新たな妖怪作りの条件】

- ① 上記の分類のうち、(a) 自然災害が妖怪の動きによって発生する伝承に関連する妖怪を作成すること。
- ② その妖怪の名前をつけること。
- ③ その妖怪が存在する場所を以下の4つから選ぶこと。
山 川 海 平野
- ④ その妖怪のどのような行動が自然災害を引き起こし、どのような被害が出るか考えること。

問13. 下線部①と同年、熊本大学医学部の研究班が四大公害病の1つである水俣病の原因物質を有機水銀と公表しました。公害に関する次のア～エの文章のうち、誤っているものを1つ選び、記号で答えなさい。

- ア. 田中正造は足尾銅山の鉱毒による被害に苦しむ住民のために活動した。
- イ. 富山県の神通川流域ではダイオキシンによってイタイタイ病がおきた。
- ウ. 三重県の四日市市では、亜硫酸ガスや窒素酸化物が原因のぜんそくが広がった。
- エ. 政府は1967年に公害対策基本法を作り、1971年に環境庁(のちの環境省)を設けた。

問14. 下線部②について、国と都道府県の政治に関する次のア～エの文章のうち、誤っているものを1つ選び記号で答えなさい。

- ア. 衆議院、参議院および地方議会のいずれも選挙権は18歳以上の男女に与えられている。
- イ. 参議院議員も地方議会議員もいずれも任期は6年であり、3年ごとに半数を改選する。
- ウ. 地方議会では条例の制定や改廃、地方公共団体の予算を決定するための議論がなされる。
- エ. 通常国会は主に次年度の予算を審議するために開会され、会期は150日間である。

[2]次の文章を読んで、あとの問いに答えなさい。

2025年に①大阪・関西万国博覧会が開かれたことは記憶に新しいでしょう。②日本での万国博覧会の開催は今回で6回目で、世界から158の国と地域が参加しました。最初の③近代的な万国博覧会は、1851年のロンドンで開かれ、その成功をうけてアメリカ、フランスでも開催されました。ロンドンで2回目となる万国博覧会は1862年に開催され、④江戸幕府からの使節団も見学しています。

日本が初めて正式に参加したのは、1867年の第2回パリ万国博覧会でした。この時は「幕府」「薩摩」⑤「鍋島」としての出品でした。明治政府として初めて正式に参加したのは、1873年のウィーン万国博覧会で、これ以降多くの博覧会に参加し、主に美術品・工芸品を出品して⑥日本文化の宣伝に努めました。一方、⑦殖産興業を進めようとする政府は産業振興のため、国内から出品を募る内国勸業博覧会の開催を計画し、1877年に⑧第1回内国勸業博覧会が東京の上野公園で開催されました。⑨内国勸業博覧会は、その後も規模を拡大しながら5回開催され、日本の近代化に貢献したのです。

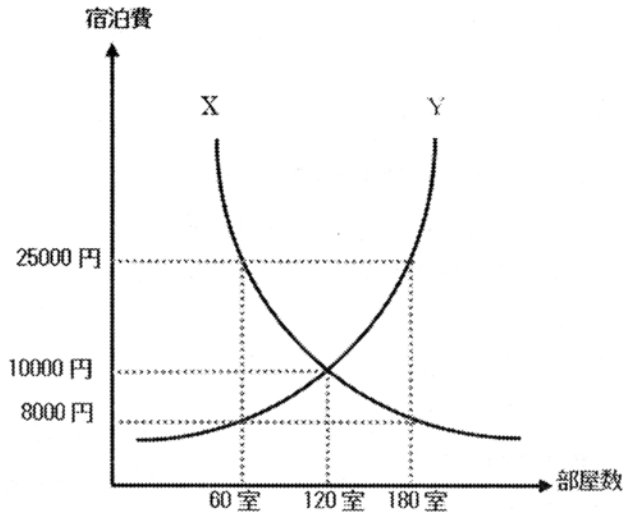
問1. 下線部①の目標に関する次の文章の空らんには当てはまる最も適切な言葉を、アルファベット4字で答えなさい。

国連が掲げる「」(持続可能な開発目標)達成の目標年である2030年まで残り5年となる2025年は、実現に向けた取り組みを加速するのに極めて重要な年です。2025年に開催される大阪・関西万博は、を2030年までに達成するためのプラットフォームになります。

(大阪・関西万博公式HPより引用)

問2. 大阪府内では、下線部①の開催によってホテルの宿泊費が大幅に上昇しました。これについて、以下の問いに答えなさい。

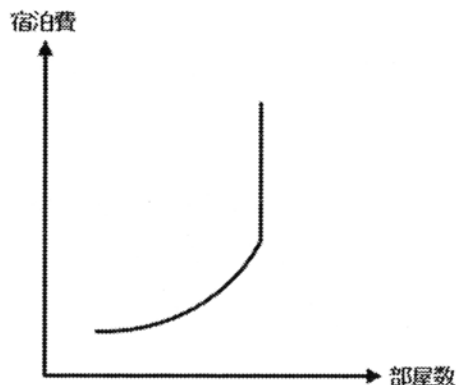
(1)ホテルの宿泊費の決まり方について、以下の説明の空らん[A]～[C]に当てはまる言葉を次のア～エからそれぞれ1つ選び、記号で答えなさい。



上の図の縦軸はホテルの宿泊費を、横軸はホテルの部屋数を表しています。また、Xの線はある宿泊費について客がいくつの部屋を求めると、Yの線はある宿泊費についてホテルがいくつの部屋を提供したいかを表しています。例えば、宿泊費が25000円のとときは客が求める部屋数とホテルが提供したい部屋数が異なるため、部屋が[A]こととなります。宿泊費が8000円の時、部屋が[B]こととなります。宿泊費が10000円の時、客が求める部屋数とホテルが提供したい部屋数が一致し、ちょうど満室になることとなります。このように、宿泊費は客が求める部屋数とホテルが提供したい部屋数が釣り合う価格となります。近くで万博などのイベントが開催されると、ある宿泊費で客が求める部屋の数が増え、Xの線全体が[C]に移動して、この価格が上昇することになるのです。

ア. 右 イ. 左 ウ. 余る エ. 足りなくなる

(2)ホテルの宿泊費についてのYの線は、実際には以下の図のように途中から垂直な直線になると考えられます。その理由を解答らんに当てはまる形で答えなさい。



問 3. 下線部②について、以下の A・B の万国博覧会が開かれた都道府県を、次のア～オからそれぞれ1つ選び、記号で答えなさい。

A. 1975年に本土復帰を記念して開かれた。

B. 1985年に「科学万博」として、研究学園都市で開かれた。

ア. 北海道 イ. 茨城県 ウ. 長野県 エ. 愛知県 オ. 沖縄県

問 4. 下線部③に関連する以下の問いに答えなさい。

(1) 1928年に国際博覧会条約が採択され、博覧会開催に関する取り決めがなされました。この出来事よりも古いものを次のア～エから1つ選び、記号で答えなさい。

ア. 国際連盟の設立 イ. 第二次世界大戦の勃発 ウ. 満州事変の勃発 エ. ヨーロッパ連合の発足

(2) 国際博覧会条約が結ばれたあとに開催された万国博覧会ではテーマが設定されるようになりました。右の表はその一部をまとめたものです。1962年には「宇宙時代の人類」がテーマとなっていますが、この頃、アメリカとソビエトの間で宇宙開発や核兵器の開発競争が起きていました。1957年に設立された核技術の平和利用の拡大と軍事利用の防止を目的とする国際機関の略称を、アルファベット4文字で答えなさい。

開催年	テーマ
1933・34	「進歩の世紀」
1937	「現代生活における芸術と技術」
1939・40	「明日の世界と建設と平和」
1958	「科学文明とヒューマニズム」
1962	「宇宙時代の人類」
1974	「汚染なき進歩」
1984	「川の世界 水は命の源」
1993	「新しい飛躍への道」
2000	「人間 自然 技術」
2008	「水と持続可能な開発」

(3) (2)の表から読み取れないものを次のア～ウから1つ選び、記号で答えなさい。

ア. 20世紀の半ばまでは科学技術の発展への関心が強かった。

イ. 公害問題や環境問題が深刻化すると環境への関心が高まった。

ウ. 環境保全と技術の進歩は両立できないと考えられている。

問 5. 下線部④に参加して博覧会を日本に初めて紹介し、のちに『学問のすゝめ』を著した人物を答えなさい。

問 6. 下線部⑤は現在の佐賀県にあたります。この博覧会に出品された、佐賀県の特産品として正しいものを次のア～エから1つ選び、記号で答えなさい。

ア. 備前焼 イ. 有田焼 ウ. 九谷焼 エ. 瀬戸焼

問 7. 下線部⑥について、以下の写真は日本がシカゴ万国博覧会(1893年開催)のために建設した展示館です。この展示館は、現在の京都府宇治市にある建物をモデルとしています。平安時代にその建物を建立した人物を答えなさい。



出典:国会図書館 HP(一部加工)

問 8. 下線部⑦について、2015年に「明治日本の産業革命遺産」として世界遺産に登録されたものを次のア～エから1つ選び、記号で答えなさい。

ア. 官営八幡製鉄所 イ. 石見銀山 ウ. 富岡製糸場 エ. 佐渡金山

問 9. 下線部⑧について以下の問いに答えなさい。

(1) この博覧会では、臥雲辰致が発明・出品した「ガラ紡」と呼ばれる機械が評判となりました。しかし、しくみが簡単な「ガラ紡」は多くの模造品が無断で作られ、彼の生活は苦しくなりました。このような事態から発明者を守るために整えられた権利を、次のア～エから1つ選び、記号で答えなさい。

ア. 著作権 イ. 肖像権 ウ. 特許権 エ. 商標権

(2) この博覧会には日本全国から出品がありました。当時の道府県のうち鹿児島県のみ出品がありませんでした。その理由を、上野公園に銅像がある【写真】の人物の名前を挙げながら、【画像】も参考にして説明しなさい。



【写真】(出題者撮影)



【画像】(出典:東京都立図書館アーカイブ、一部加工)

問10. 下線部⑨について、1903年に開かれた第5回内国勸業博覧会では「学術人類館」に展示されたことに対し、清国や沖縄県が抗議をして問題となりました。その展示内容は日本の先住民民族や近隣の民族を集め、民族衣装姿で日常生活を見せるものでした。似たような展示は一部の国々がアジア・アフリカに多くの植民地を所有していた帝国主義時代のヨーロッパでも見られました。この展示に関連する以下の問いに答えなさい。

- (1) このような展示を行う意図や展示に対する当時の人々の受け止めとして、誤っているものを次のア～エから1つ選び、記号で答えなさい。
- ア. 帝国主義の諸国において、植民地を保有している国としては様々な人々を集めることで保有する植民地の広大さを誇ろうとした。
 - イ. 帝国主義の諸国において、植民地の文化を未開のものとして紹介し、それを文明化させるとして植民地支配を正当化しようとした。
 - ウ. 「学術人類館」の展示において様々な民族の文化が紹介されたことで、どの文化も等しく尊重されたと受け止められた。
 - エ. 「学術人類館」に展示されることによって文明化していない人々として見下されてしまう可能性があるとして受け止められた。
- (2) 2019年に日本列島北部、特に北海道の先住民民族が誇りを持って生活できる社会の実現を目指す法律が制定されました。その先住民民族の名前を答えなさい。
- (3) 明治期に日本政府が行った政策として先住民民族に日本文化への同化を強制する以下のようなものがありました。これらの政策は(2)の法律の目的から判断したときにどのような点で問題があると考えられますか。政策のうち1つをとりあげ、問題点をあげなさい。

独自の言語の使用制限 狩猟や漁労の禁止 土地の国有化

- (4) 現在の日本国憲法では法の下での平等が規定されていますが、その規定は第何条にありますか、答えなさい。

氏名

受験番号

[1]

問1	1		2		3		年
	4		5		問2		
問3		問4		問5			
問6	(1)		(2)		(3)		
問7		問8		問9	→		→
問10	a		b		c		
問11							
問12	(1)	X	分の1	Y	岩	(2)	
	(3)	その豪雨のせいで () が発生したようです。					
問12	妖怪の名前 ()						
	存在する場所 (山 ・ 川 ・ 海 ・ 平野) ←丸で囲む						
(4)	行動と自然災害 ()						
問13		問14					

[2]

問1		問2	(1)	A		B		C	
問2	(2)	ホテルの部屋は、()から。							
問3	A		B						
問4	(1)		(2)				(3)		
問5			問6			問7			
問8			問9	(1)					
問9	(2)								
問10	(1)		(2)						
	(3)								
	(4)	第	条						

氏名

受験番号

[1]

問1	1	南海トラフ	2	鴨長明	3	1995	年
	4	ポランテア	5	ハザードマップ	問2	エ	
問3	ア	問4	イ	問5	ア		
問6 (1)	弘法大師 (空海)	(2)	武田信玄	(3)	坂上田村麻呂		
問7	ウ	問8	エ	問9	ア → ウ → イ → エ		
問10	a	ウ	b	カ	c	イ	
問11	(解答例) 大名に倉を作らせ、米を蓄えさせた。						
	(1)	X	2万5000	分の1	Y	花こう	岩 (2) エ
	(3)	その豪雨のせいで (下関地区では河川との標高差があまりないため河川の増水による低地の 浸水が、湯沢地区では花こう岩由来のまろい土砂に覆われた斜面が集落 に流れ込む土砂流) が発生したようです。					
問12	(解答例) 妖怪の名前 (やまんやん) 存在する場所 (山) ・ 川 ・ 海 ・ 平野) ←丸で囲む (4) 行動と自然災害 (雨が嫌いで、大雨が降ると暴れて爪研ぎをするこ とで土砂流が起こり、民家に多くの土砂や倒木が流 れ込む。)						
問13	イ	問14	イ				

[2]

問1	SDGs	問2 (1)	A	ウ	B	エ	C	ア
問2 (2)	(解答例) ホテルの部屋は、(数に限りがある) から。							
問3	A	オ	B	イ				
問4 (1)	ア	(2)	I A E A	(3)	ウ			
問5	福沢 (澤) 諭吉	問6	イ	問7	藤原頼通			
問8	ア	問9 (1)	ウ					
問9 (2)	(解答例) 西郷隆盛を指導者とする西南戦争が起こっていたから。							
	(1)	ウ	(2)	アイヌ				
問10 (3)	(解答例) 狩猟や漁労の禁止という政策は伝統的な生業を否定するもの であるため、先住民族が自分の文化に誇りを持って生活する社会の実現 という目的に反するという問題がある。							
	(4)	第 1 4 条						